

検査Ⅴ 地理歴史・公民 【共通問題】

(解答上の注意)

- (1) 解答は、全て解答用紙に記入すること。  
 (2) 【共通問題】の  ～  は、全員が解答すること。  
 (3) 【選択問題】は、各自が3問選び解答すること。

【歴史総合】

I 近代以降の女性の状況について述べた次の文に関連して、下記の問いに答えなさい。

日本では①明治維新後も女性の社会的地位は低いままであった。明治時代に制定された諸法律では、戸主に強大な権限をもたせ、女性の人格や地位は尊重されず、また女性には選挙権が与えられなかった。

1920年、平塚らいてうや市川房枝らは新婦人協会を結成して女性の参政権を求め、さらに1924年には婦人参政権獲得期成同盟会を組織した。

平塚らの参政権運動などを経て、戦後、女性の地位は向上したが、②社会の諸局面には未だ男女同権とはいえない問題が残されている。

問1 下線部①に関連する内容として最も適当なものを次のア～エから1つ選び、記号で答えなさい。

ア 1871年に派遣された天正遣欧使節団とともに、津田梅子ら5名の留学生がアメリカに渡り、日本の女子教育のパイオニアとなった。

イ 紡績業や製糸業では、農村出身の女性労働者が多く、過酷な労働で得た賃金は親への仕送りなどにあてられた。

ウ 1911年に創刊した『青鞥』は、良妻賢母を育てることをめざす女子教育を推奨した。

エ 1922年に治安警察法が改正され、女性の政治活動に対する取り締まりが強化された。

問2 下線部②に関連して、女性の労働力化と職場の男女平等の要求から1985年に制定された法律を何というか、答えなさい。

問3 次の文章は、明治を代表する女性実業家である広岡浅子の著書『一週一信』の一部である。この文章から読み取れる事柄a・bについて、その正誤の組合せとして最も適当なものを次のア～エから1つ選び、記号で答えなさい。

--

検査V 地理歴史・公民 【共通問題】

a 女性には学問は必要ないと考え興味を持たなかったので、家人は心配して、制裁を加えた。

b 女子が物と同じように親から夫に渡されることを嘆いていた。

ア a-正 b-正 イ a-正 b-誤 ウ a-誤 b-正 エ a-誤 b-誤

問4 世界史上における女性の社会進出について述べた文として適当でないものを次のア～エから1つ選び、記号で答えなさい。

ア ニュージーランドでは、1893年に世界で初めて全土で女性参政権を認めた。

イ イギリスでは第一次世界大戦中、戦争の長期化により、労働力不足を補うため女性が軍需工場などに動員された。

ウ アメリカでは、第一次世界大戦を経て、1920年には憲法に新たに修正条項が加えられ、全国的に女性参政権の保障が義務付けられた。

エ 日本では、第二次世界大戦後に大衆文化が成長し、バスガールやタイピストなど職業婦人とよばれる女性たちが現れた。

II 近代以降の経済に関して述べた文A・Bに関連して、下記の問いに答えなさい。

A ③産業革命により「世界の工場」として台頭したイギリスに対し、19世紀に入ると他の欧米諸国も工業化をめざした。

アメリカ合衆国では、19世紀より北東部で繊維産業を中心とする工業化が進展した。その結果、自由貿易を求める南部綿花栽培地域と、保護貿易を求める北部工業地域との対立が生じ、④奴隷制の存続問題とともに南北戦争の原因となった。

日本では、明治政府は欧米諸国に追いつき、対等な関係を築くため、富国強兵をめざし、⑤税制改革や殖産興業政策が行われ、外国技術を導入した官営工場や鉱山の設立、技術教育などが推進された。⑥幕末以来の重要な輸出産業であった製糸業でも外国技術を導入した器械製糸が普及し、生産を拡大した。政府と結びつきつつ発展した⑦財閥も、事業を多角的に展開していった。

問5 下線部③に関連して、右の絵は18世紀のイギリスの状況を表した風刺画である。産業革命により起こった社会変化について述べた文として適当なものを次のア～エからすべて選び、記号で答えなさい。

ア 労働者には低賃金のもとで貧困と生活難に苦しむ人々が多かった。

イ 主に工場が作られた農村部には人口が集中した。

ウ 工場では男性のみが労働者として雇われた。

エ 貧しい人々には安価なジーンが好まれ、絵画では、我が子を手すりから落としてしまいそうになっている女性の姿が描かれている。

(ウィリアム・ホガース「ジーン横丁」)

## 検査V

## 地理歴史・公民

## 【共通問題】

問6 下線部④に関連して、1863年に奴隷解放宣言を出したアメリカ大統領は誰か、答えなさい。

問7 下線部⑤に関連して、明治政府が行った政策として最も適当なものを次のア～エから1つ選び、記号で答えなさい。

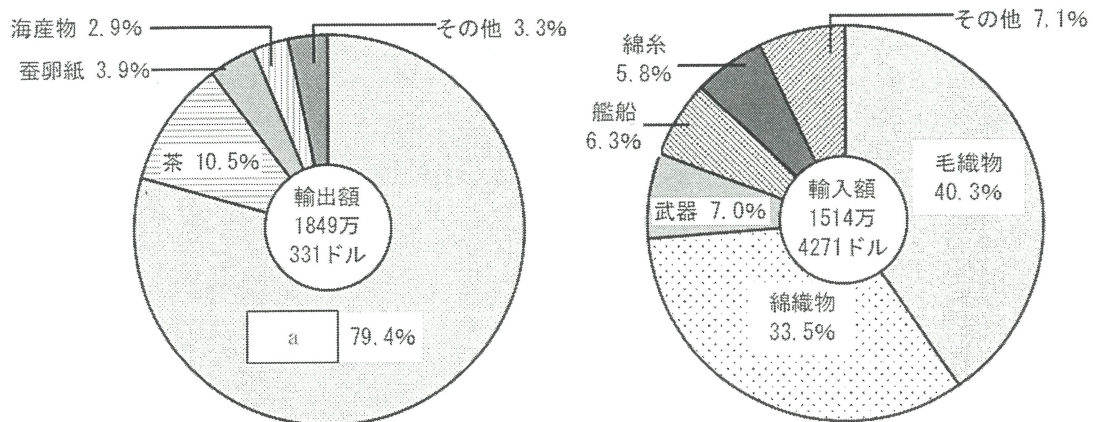
ア 1873年の地租改正条例は、地券を発行して土地の所有者を確定するとともに、土地の面積と農作物などの収穫量にもとづいて地価を定め、その50%を地租として現金でおさめるよう所有者に求めた。

イ 1871年に渋沢栄一の建議にもとづいて郵便制度が発足し、また翌年には東京―大阪間に電信が、新橋―横浜間には鉄道が開通した。

ウ 1871年の新貨条例で円・銭・厘を単位とした金貨と銀貨を発行した。

エ 1872年に国立銀行条例が定められ、正貨である金貨や銀貨との交換義務のない不換銀行券の発行が認められた。

問8 下線部⑥に関連して、次の円グラフは1865年の日本の主要貿易品の割合を示したものである。下記の問いに答えなさい。



(石井孝『幕末貿易史の研究』より作成)

- (1) 当時の日本の貿易の特徴について、次のようにまとめた。空欄 a、b に当てはまる語句を、グラフをもとにそれぞれ答えなさい。ただし、グラフとまとめの a には、同じ語句が入る。

主な輸出品は a ・茶・蚕卵紙で原料などとなるものが多く、輸入品は毛織物・綿織物などの b が多かった。

- (2) グラフを参考に貿易額の違いについて述べ、そのことが日本国内にどのような影響を与えたか、説明しなさい。

問9 下線部⑦に関連して、日本の財閥に関して述べた次のア～エが年代順になるように左から記号で答えなさい。

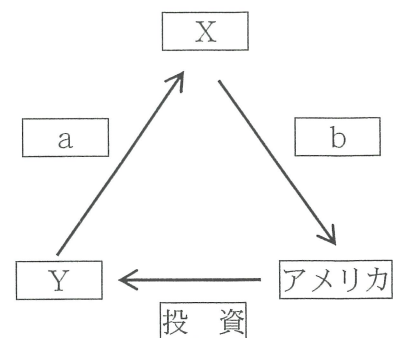
ア 連合国は軍国主義をささえる基盤であるとみなして財閥を解体し、独占禁止法や過度経済力集中排除法により経済の民主化をすすめた。

検査Ⅴ 地理歴史・公民 【共通問題】

- イ 重化学工業が発展し、日産や日窒などの新興財閥が急成長し、朝鮮や満州に進出した。
- ウ 銀行・商社・鉱山など多業種を経営する財閥が生まれ、三井・三菱・住友・安田が四大財閥とよばれた。
- エ 政府からの援助を受けて成長した商人を政商とよび、政府関係者とのつながりのある有力な事業者が官営事業の払下げを受け、おもな担い手となった。

B ⑧1920年代のアメリカ合衆国では都市を中心に空前の好景気が続いた。しかし1929年10月24日、ニューヨーク証券取引所で株価が大暴落し、銀行があいついで破綻した。世界の経済・金融の中心だったアメリカの恐慌は、⑨数年間にわたり世界を巻きこむ大恐慌へと発展した。

問10 下線部⑧に関連して、右の図は1920年代の国際経済の様子を表したものである。図中のX・Yには「イギリス」「ドイツ」のいずれかの国名が入る。またa・bには「戦債の返済」「賠償金」のいずれかの語句が入る。それぞれに入る国名及び語句の組合せとして最も適当なものを次のア～エから1つ選び、記号で答えなさい。

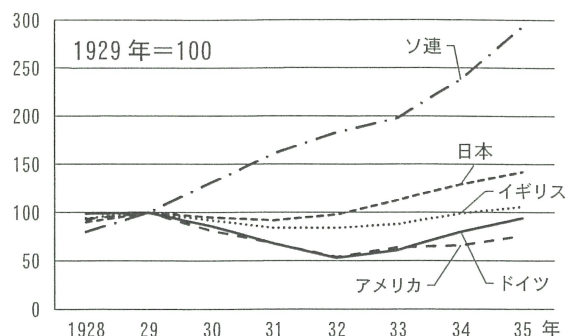


- ア X－イギリス a－戦債の返済
- イ X－ドイツ b－戦債の返済
- ウ Y－イギリス b－賠償金
- エ Y－ドイツ a－賠償金

問11 下線部⑨に関連して、下記の問いに答えなさい。

- (1) この恐慌によって起こった各国の状況として最も適当なものを次のア～エから1つ選び、記号で答えなさい。
- ア アメリカは金本位制を停止し、自国の植民地の貿易保護をはかるブロック経済化を進めた。
- イ イギリスではニューディールとよばれる新政策を推進し、雇用を生み出すために大規模な公共事業を行った。
- ウ 日本では高橋是清蔵相が金本位制を離脱して円相場の下落を放任し、輸出を増大させた。
- エ ドイツでは失業者が増え、社会不安が高まるなか、ムッソリーニの率いるファシスト党が急速に勢力を伸ばした。

- (2) 右のグラフはこの時期の各国の工業生産の推移を表したものである。他の国に比べてソ連の工業生産が高くなっているが、その理由として考えられることを世界恐慌への対応にふれながら説明しなさい。



## 2 【地理総合】

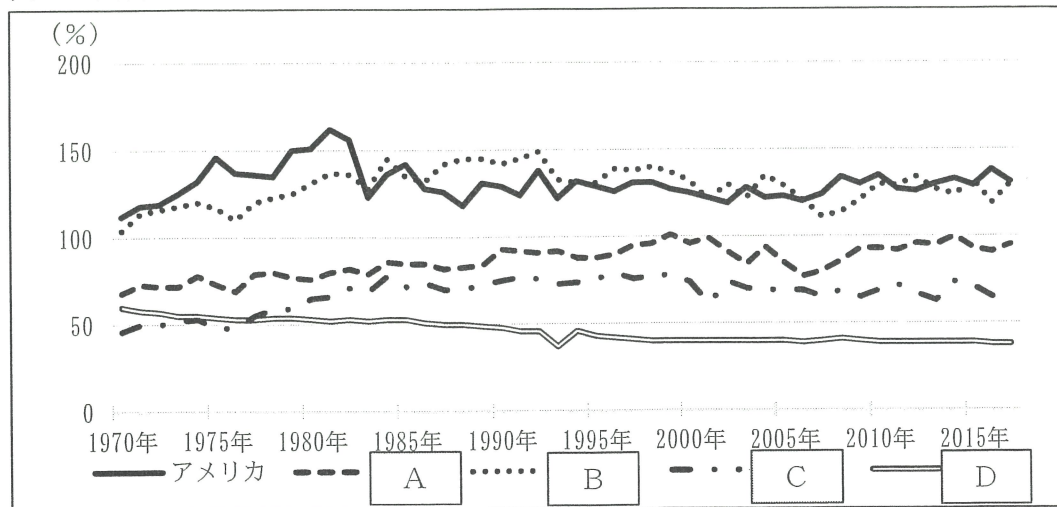
I 地図について、下記の問いに答えなさい。

- 問1 図法の説明として最も適当なものを次のア～エから1つ選び、記号で答えなさい。
- ア メルカトル図法は、地図上の任意の2点を結んだ直線が等角航路を示す。
  - イ メルカトル図法は、図の中心からの距離と方位が正しく、等角航路を直線で表す。
  - ウ 正距方位図法は、地図上の任意の2点を結んだ直線が等角航路を示す。
  - エ 正距方位図法は、図の中心からの距離と方位が正しく、等角航路を直線で表す。
- 問2 正距方位図法による世界全図について、図の中心から外周までの距離は約何万 km か、1～9の整数で答えるとともに、その理由を対蹠点という語を用いて説明しなさい。
- 問3 各道府県から東京都への人口移動者数を表すために使用する統計地図として最も適当なものを次のア～エから1つ選び、記号で答えなさい。
- ア ドットマップ
  - イ 等値線図
  - ウ 図形表現図
  - エ 流線図

Ⅱ 食料問題について、下記の問いに答えなさい。

問4 図1は、アメリカ合衆国、イギリス、ドイツ、フランス、日本の食料自給率（カロリーベース）の推移を示したものである。フランスと日本の推移を示すグラフの組合せとして最も適当なものを次のア～エから1つ選び、記号で答えなさい。

図1 食料自給率（カロリーベース）の推移



（「農林水産省 令和元年度食料需給表（確定値）」より作成）

- ア フランスーA 日本ーC    イ フランスーA 日本ーD  
 ウ フランスーB 日本ーC    エ フランスーB 日本ーD

問5 食品ロス削減のために、NPO 法人などが品質に問題のない期限間近の食品を企業などから寄付してもらい、福祉施設などへ無償提供を行う取組を何というか、カタカナ6字で答えなさい。

問6 地域で生産されたものをその地域で消費するという取組を何というか、答えなさい。

問7 サハラ以南アフリカは世界で最も栄養不足が深刻な地域であり、その原因の一つとしてプランテーション農業によるモノカルチャー経済が進んでいることがあげられる。モノカルチャー経済が進むことと栄養不足が深刻であることの関係について、「商品作物」「自給用穀物」の2語を用いて、説明しなさい。

Ⅲ 次の【資料1】、【資料2】について、下記の問いに答えなさい。

【資料1】

(浅間山北麓ビジターセンター「浅間山自然観察ノート」より作成)

【資料2】

(浅間山北麓ビジターセンター「浅間山自然観察ノート」より作成)

問8 下線部①に関連して、日本列島を縦断するように海溝に並行してのびる火山列を何と  
うか、答えなさい。

問9 下線部②に関連して、下記の問いに答えなさい。

- (1) 火山の爆発や噴火による陥没などによってできた大きなくぼ地を何と  
いうか、答えなさい。
- (2) 洞爺湖・有珠山や阿蘇などを世界ジオパークに認定した国際機関を何と  
いうか、答えなさい。

問 10 下線部③に関連して、下記の問いに答えなさい。

- (1) 図2について、降下火砕物（降灰）が積もりやすい範囲を想定火口の東寄りに想定しているのは、何という風の影響によるものか、漢字3字で答えなさい。

図2 大規模噴火のハザードマップ<降下火砕物（降灰）>



（「浅間山火山防災マップ」より抜粋）

- (2) 九州南部に広がる、火山灰などの火山性の堆積物が形成した台地を何というか、答えなさい。

問 11 空欄④にあてはまる、高温の火山噴出物が斜面を高速で流れ下る現象を指す語句は何か、漢字3字で答えなさい。

3 【公共】

次の文は、探究学習でSDGsについて学んでいる生徒Xと生徒Yとの会話である。これを読んで、下記の問いに答えなさい。

X：探究の時間で①SDGsがテーマになったね。どんな視点ですすめていけばいいのかな。

Y：②国際的な合意に基づく様々なアクションが必要なことと、経済・社会・環境を次世代につなげていくという2つの視点が必要だね。

X：環境に関する国際的な合意には、具体的にどんなものがあるの？

Y：国連人間環境会議では、初めて地球は有限で閉じたシステムであるという見方が示されて、③地球温暖化、オゾン層破壊、④湿地の保護と生物多様性の減少・砂漠化の進行などの問題は世界全体で取り組む課題であるとしてさまざまな条約ができたんだよ。



X：そうか。その流れが現在までつながっているんだね。

Y：国連環境開発会議では、現在の世代だけでなく、将来の世代も経済的・社会的利益を享受できるように開発と環境保全を調和させて、発展を持続可能とする考え方が基本理念になったんだ。それが、気候変動枠組み条約や、生物多様性条約につながっているよ。

X：日本には、⑤自然物に霊が宿るという考え方があって、自然を大切にしてきたよね。一方で、高度成長期には⑥公害の発生が課題になって、その対策にも取り組んできたね。

Y：地球環境を守るためにグローバルな視点に立って議論して、国際的な合意や取り決めをしていくことも不可欠だけど、私たち⑦一人ひとりの普段の生活や行動様式を見直して身近な地域で具体的な行動をとることも重要だよ。

問1 下線部①に関連して、下記の問いに答えなさい。

(1) SDGsの説明として最も適当でないものを次のア～エから1つ選び、記号で答えなさい。

- ア ミレニアム開発目標 (MDGs) を発展させ、世界全体で取り組む目標とした。
- イ 17の国際目標の下に169のターゲットが設定されている。
- ウ 2015年の国連サミットで採択され、2035年の達成を目標としている。
- エ 地球上の「誰一人とり残さない」ことを理念に掲げている。

(2) 17の国際目標として最も適当でないものを次のア～エから1つ選び、記号で答えなさい。

- ア 貧困をなくそう
- イ 質の高い教育をみんなに
- ウ 産業と技術革新の基盤をつくろう
- エ 核兵器をなくそう

問2 下線部②に関連して、以下の国際会議や議定書のうち、開催や採択された順番が古い方から3番目にあたるのはどれか、次のア～エから1つ選び、記号で答えなさい。

- ア 国連環境開発会議 開催
- イ 国連人間環境会議 開催
- ウ モントリオール議定書 採択
- エ 京都議定書 採択

問3 下線部③に関連して、下記の問いに答えなさい。

(1) 二酸化炭素などの排出量を抑制するために、国や企業の間で排出枠を売り買いする制度を何というか、答えなさい。

(2) 2015年、第21回気候変動枠組み条約締約国会議 (COP21) で採択された、現在の温室効果ガスの排出量削減の枠組みのことを何というか、答えなさい。

問4 下線部④に関連して、1971年に採択された水鳥などの生息地として重要度の高い湿地を登録し、保護を義務付けた条約名を何というか、答えなさい。

問5 下線部⑤に関連して、自然界のさまざまな事物や現象に精霊が宿っているとする思想を何というか、カタカナで答えなさい。

問6 下線部⑥に関連して、下記の問いに答えなさい。

(1) 以下の国内の取組のうち、制定や設置の順番が古い方から3番目にあたるのはどれか、次のア～エから1つ選び、記号で答えなさい。

ア 公害対策基本法 制定

イ 環境基本法 制定

ウ 環境影響評価（環境アセスメント）法 制定

エ 環境庁 設置

(2) 日本で起きた産業公害の代表とされる四大公害として最も適当でないものを次のア～エから1つ選び、記号で答えなさい。

ア 四日市ぜんそく

イ 水俣病

ウ イタイイタイ病

エ 足尾鉍毒事件

問7 下線部⑦に関連して、下記の問いに答えなさい。

(1) 人間や社会、環境に配慮した消費をすることをエシカル消費というが、エシカル消費の行動例として最も適当でないものを次のア～エから1つ選び、記号で答えなさい。

ア 買い物の際にマイバックを持参したり、ペットボトルの代わりに水筒を持参したりする。

イ 環境に害を及ぼす活動をしている企業の商品を購入しない。

ウ 家計の出費を抑えることを最優先し、海外から安い商品を購入する。

エ 海外で児童労働を行わせている企業の商品を購入しない。

(2) バングラデシュのグラミン銀行を創設し、2006年にノーベル平和賞を受賞した人物は誰か、答えなさい。また、グラミン銀行などが行っているマイクロクレジットとはどのような融資であるか、説明しなさい。

(3) フェアトレードについて、「発展途上国」の語を必ず用いて説明しなさい。

(解答上の注意)

- (1) 次の  ～  の中から 3 問を選択して答えなさい。
- (2) 解答は、全て解答用紙に記入すること。

【日本史探究】

次の文を読んで、下記の問いに答えなさい。なお、漢字で解答すべき問題は漢字で答えなさい。

(2022年3月4日『信濃毎日新聞』「しなの歴史再見」一部改)